


Ein Hunderterfeld ist ein Quadrat, das aus  $10 \times 10 = 100$  Kästchen besteht.

1. Markiere die angegebenen Prozente im Hunderterfeld.  
Schreibe den Anteil auch als gekürzten Bruch auf.


Prozent gibt immer den Anteil von Hundert an:  
 $1\% = \frac{1}{100}$

a) 20 %




gekürzter Bruch: \_\_\_\_\_

b) 35 %




gekürzter Bruch: \_\_\_\_\_

c) 66 %



gekürzter Bruch: \_\_\_\_\_

d) 78 %



gekürzter Bruch: \_\_\_\_\_

2. Nenne Beispiele aus deinem Alltag, in denen Prozente vorkommen.

---



---



---



---



---



---